

BA7

Nivel S



Autores: D. Arribas, P. Santamaría, F. Sánchez-Sánchez e I. Fernández-Pinto.
Copyright © 2013 by TEA EDICIONES, S.A.U.
Prohibida la reproducción total o parcial. Todos los derechos reservados.

V

Instrucciones

A continuación aparecen frases a las que les falta una palabra que ha sido sustituida por un interrogante. Tu tarea consistirá en descubrir qué palabra falta para que la frase resulte verdadera y con sentido.

En cada ejercicio se proponen cuatro palabras u opciones de respuesta posibles, con las letras A, B, C y D delante. Entre las cuatro palabras solamente **UNA** es la opción correcta, la que completa mejor la frase dotándola de sentido.

Para responder, fíjate bien en la frase y en las cuatro palabras. Cuando hayas decidido qué palabra es la correcta, marca la letra correspondiente (A, B, C o D) en la hoja de respuestas, en la **columna V**, asegurándote de que coincida con el número del ejercicio que estás contestando.

Las frases que aparecen tienen todas la misma estructura. Fíjate en el **ejemplo V1**.

V1

ALTO es a **BAJO** como **GRANDE** es a ...?...

A. VISIBLE

B. GORDO

C. PEQUEÑO

D. POCO

Para elegir la respuesta correcta, fíjate bien tanto en la frase como en las opciones de respuesta. ¿Cuál de las cuatro opciones completa la frase dotándola de sentido?

La respuesta correcta es la **C**, porque **GRANDE** y **PEQUEÑO** se relacionan de la misma forma que **ALTO** y **BAJO**: son opuestos. Por eso, en la hoja de respuestas ya se ha marcado esta opción en el espacio correspondiente al ejemplo **V1**.

V2 ...?... es a **ESTRELLA** como **TIERRA** es a ...?...

A. LUZ – SISTEMA **B.** CALOR – SATURNO **C.** NOCHE – DÍA **D.** SOL – PLANETA

En este caso, se han sustituido **dos palabras** por dos interrogantes, por eso las opciones de respuesta son pares de palabras. Teniendo en cuenta que la primera palabra del par sustituye al primer interrogante, y la segunda al segundo, ¿cuál de las cuatro opciones es la correcta?

La respuesta correcta es la **D**, porque **SOL** y **ESTRELLA** guardan entre sí la misma relación que **TIERRA** y **PLANETA**: el Sol es una estrella y la Tierra es un planeta. Fíjate igualmente en que cualquiera de las otras opciones no sería correcta; por ejemplo, en la opción **B**, es cierto que las estrellas producen calor, pero no tiene sentido la misma relación en las dos últimas palabras («Saturno» **no** produce «Tierra»).

Marca ahora la respuesta a este ejemplo en la hoja de respuestas, en el espacio correspondiente al **ejemplo V2** de la **columna V**.

Durante la prueba encontrarás ejercicios como estos, en los que faltan una o dos palabras. En todos los casos deberás seleccionar la opción de respuesta que sustituye al interrogante o interrogantes dotando de sentido a la frase.

El tiempo máximo para la realización de esta prueba es de **12 minutos**, por lo que deberás trabajar rápidamente, esforzándote al máximo en encontrar la respuesta correcta. Si en algún ejercicio no estás completamente seguro de cuál puede ser, elige la opción que creas que es más correcta de las que aparecen; no se penalizará el error.

Si terminas antes del tiempo concedido, repasa tus respuestas, pero **NO** continúes con las demás pruebas.



Espera a las instrucciones del examinador.

En cada ejercicio, ¿cuál de las cuatro opciones (A, B, C o D) completa la frase dotándola de sentido?

1 **ROJO** es a **AMARILLO** como **DULCE** es a ...?...

- A. AMARGO B. SUAVE C. OSCURO D. ÁSPERO

2 **PALABRA** es a **FRASE** como **VERSO** es a ...?...

- A. RIMA B. CANCIÓN C. ESTROFA D. SERMÓN

3 **LÁTIIGO** es a **DOMADOR** como **ESPUELA** es a ...?...

- A. JINETE B. FUTBOLISTA C. TRAPICISTA D. MALABARISTA

4 **PIE** es a **CUERPO** como **BOMBILLA** es a ...?...

- A. OJOS B. LUZ C. VELA D. LÁMPARA

5 **BICICLETA** es a **AVIÓN** como **METAL** es a ...?...

- A. SOLIDEZ B. MADERA C. VELOCIDAD D. FRAGMENTO

6 **DERMATOLOGÍA** es a **MEDICINA** como **CARTOGRAFÍA** es a ...?...

- A. GEOGRAFÍA B. GEOLOGÍA C. ASTRONOMÍA D. HERÁLDICA

7 **ESCULTOR** es a **ESTUDIO** como **ACTOR** es a ...?...

- A. ARTE B. ESCENARIO C. DRAMA D. LITERATURA

8 **PERDER** es a **GANAR** como **REPOSO** es a ...?...

- A. GANANCIA B. DESCANSO C. ACTIVIDAD D. CALMA

En cada ejercicio, ¿cuál de las cuatro opciones (A, B, C o D) completa la frase dotándola de sentido?

9 **APOCADO** es a **TÍMIDO** como **ARROGANTE** es a ...?...

- A. LISTO B. HUMILDE C. VIRTUOSO D. SOBERBIO

10 ...?... es a **DÍA** como **PRÓLOGO** es a ...?...

- A. HORA – ARTÍCULO C. MAÑANA – LIBRO
B. HORA – HOJA D. NOCHE – LOGO

11 ...?... es a **ÁNGULO** como **LITRO** es a ...?...

- A. METRO – PESO C. AGUDO – AGUA
B. GRADO – VOLUMEN D. OBTUSO – LÍQUIDO

12 ...?... es a **ÓPTIMO** como **MALO** es a ...?...

- A. BUENO – PÉSIMO C. FRAUDE – ENGAÑO
B. PÉSIMO – FATAL D. MEJOR – PEOR

13 **INDEFENSO** es a **DESVALIDO** como **ENLAZADO** es a ...?...

- A. CONEXO B. RECORRIDO C. TORCIDO D. EXPLORADO

14 ...?... es a **BLANCO** como **FUEGO** es a ...?...

- A. HIELO – CALOR C. NIEVE – CALOR
B. FRÍO – ROJO D. NIEVE – ROJO

15 **FUGAZ** es a **DURADERO** como **TRANSLÚCIDO** es a ...?...

- A. LUZ B. OSCURIDAD C. OPACO D. PERENNE

16 **ADELANTAR** es a **DEMORAR** como **ANTICIPAR** es a ...?...

- A. APLAZAR B. DESISTIR C. PROVEER D. ACHACAR

V
BT
En cada ejercicio, ¿cuál de las cuatro opciones (A, B, C o D) completa la frase dotándola de sentido?

17 ...?... es a **CONSECUENCIA** como **PARTE** es a ...?...

A. SECUELA – PORCIÓN
B. ACCIÓN – TODO

C. ANTECEDENTE – DIVISIÓN
D. RESPONSABLE – SUMA

18 **INFINITO** es a **INAGOTABLE** como **VASTO** es a ...?...

A. EXPEDITO

B. COLOSAL

C. DEMORADO

D. CONFUSO

19 **ABRUMAR** es a ...?... como **DEMOLER** es a ...?...

A. PESAR – REDUCIR
B. RECARGAR – REPRIMIR

C. APLACAR – MOLESTAR
D. ALIVIAR – CONSTRUIR

20 ...?... es a **POSTERIOR** como **MAÑANA** es a ...?...

A. NOCHE – ANTERIOR
B. TARDE – PRONTO

C. PRONTO – DÍA
D. OSCURIDAD – CLARIDAD

21 **AMENAZAR** es a **INTIMIDAR** como **ARTICULAR** es a ...?...

A. LEGISLAR

B. PRONUNCIAR

C. AFIRMAR

D. ARQUEAR

22 **AGUA** es a **EMBUDO** como **TIERRA** es a ...?...

A. CRIBA

B. FRESADORA

C. CINCEL

D. ESCARIADOR

23 **CINCEL** es a **ESCULTOR** como **ESCALPELO** es a ...?...

A. ABOGADO

B. CIRUJANO

C. AGRICULTOR

D. MECÁNICO

24 **AFLUENCIA** es a **PROFUSIÓN** como **AUGE** es a ...?...

A. DOMINIO

B. PODERÍO

C. CULMINACIÓN

D. EXACTITUD

En cada ejercicio, ¿cuál de las cuatro opciones (A, B, C o D) completa la frase dotándola de sentido?

25 **COMPOSITOR** es a **MÚSICA** como **DRAMATURGO** es a ...?...

- A. ESCENA B. ARTE C. COMEDIA D. TEATRO

26 **PRENDER** es a **EXTINGUIR** como **JUNTAR** es a ...?...

- A. SEPARAR B. UNIR C. APAGAR D. REDUCIR

27 **TRIVIAL** es a **BALADÍ** como **COMPLEJO** es a ...?...

- A. ÍNTEGRO B. ESCUETO C. INTRINCADO D. ADECUADO

28 ...?... es a **CELDA** como **HOSPITAL** es a ...?...

- A. CÁRCEL – PACIENTE C. DELINCUENTE – DOCTOR
B. CRIMINAL – QUIRÓFANO D. PRISIÓN – SALA

29 ...?... es a **AVIÓN** como **GARAJE** es a ...?...

- A. PISTA – COCHE C. AEROPUERTO – PRIVADO
B. HANGAR – AUTOMÓVIL D. COMPUERTA – CANCELA

30 **CONTRAER** es a ...?... como **CALMAR** es a ...?...

- A. ENGENDRAR – CONTAGIAR C. EXPANDIR – SOSEGAR
B. AGRANDAR – ENERVAR D. SOJUZGAR – ADORMECER

31 ...?... es a **CÓMODA** como **ESTANTE** es a ...?...

- A. REPISA – BALDA C. ARMARIO – VITRINA
B. LIBRERÍA – LIBRO D. CAJÓN – LIBRERÍA

32 ...?... es a **LONGITUD** como **ONZA** es a ...?...

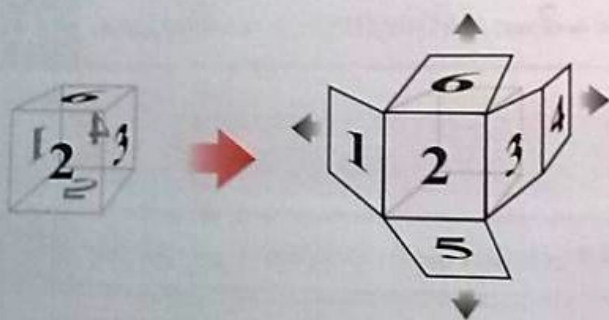
- A. VARA – PESO C. ANCHURA – PESO
B. PIE – PARTE D. LATITUD – PROFUNDIDAD

E

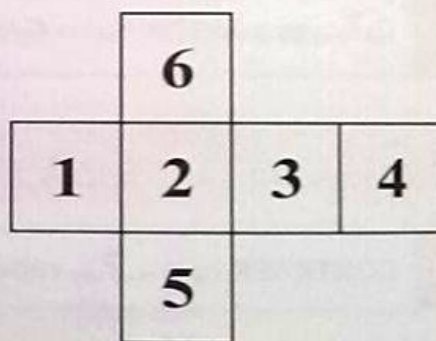
Instrucciones

En los ejercicios de esta prueba encontrarás un **cubo** junto con un **modelo** de ese mismo cubo. Fíjate en la siguiente imagen.

Cubo



Modelo




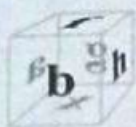
Como puedes ver, cuando se despliegan todas las caras del **cubo** se forma el **modelo**. Para facilitar tu tarea, en el cubo se han representado en color gris los números o letras que se encuentran en las caras de atrás (las que no se ven directamente).

En cada ejercicio encontrarás un cubo diferente junto con su modelo, al que se le han borrado casi todos los números y letras. Tu tarea consistirá en averiguar qué número o letra debería aparecer en el lugar del interrogante y en qué orientación.

Recuerda que solo existe **UNA** opción correcta. Cuando te hayas decidido, marca la letra correspondiente (A, B, C o D) en la hoja de respuestas, en **la columna E**, asegurándote de que coincida con el número del ejercicio que estás contestando.

Fíjate en el **ejemplo E1**.

E1



a

A

h

B

x

C


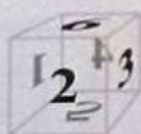
f

D

En este ejemplo la respuesta correcta es la opción **B**, opción que ya se ha marcado en la **columna E** de la hoja de respuestas. Si se sustituye el interrogante por la letra «h» y se pliegan las caras del modelo hasta formar el cubo, este se corresponde con el que aparece a la izquierda.

Fíjate ahora en el **ejemplo E2**.

E2



2

A

7

B

6

C

6

D

En este ejemplo la respuesta correcta es la opción **A**. Marca ahora la respuesta a este ejemplo en la hoja de respuestas, en el espacio correspondiente al **ejemplo E2** de la **columna E**.

El tiempo máximo para la realización de esta prueba es de **15 minutos**, por lo que deberás trabajar rápidamente, esforzándote al máximo en encontrar la respuesta correcta. Si en algún ejercicio no estás completamente seguro de cuál puede ser, elige la opción que crees que es más correcta de las que aparecen; no se penalizará el error.

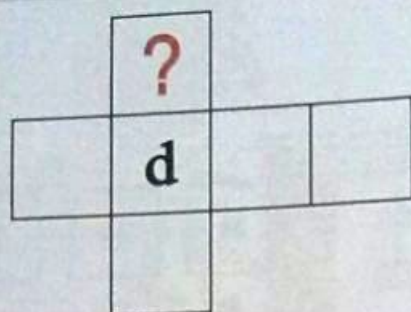

Si terminas antes del tiempo concedido, repasa tus respuestas, pero **NO** continúes con las demás pruebas.



Escucha a las instrucciones del examinador.

¿Cuál de las opciones (A, B, C o D) debería aparecer?

1



ϵ

A

y

B


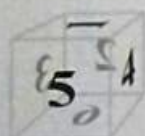
i

C

e

D

2



ϵ

A

4

B

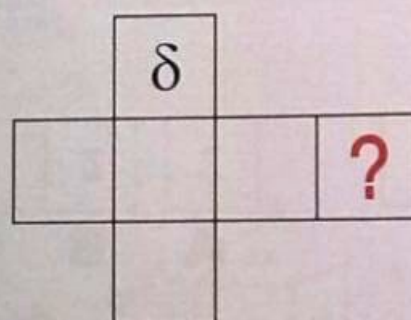
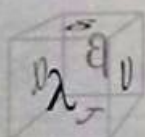
2

C

1

D

3



ϱ

A

ζ

B


λ

C

β

D

4



4

A

F

B



F

C

G

D

5



ϱ

A

y

B

i

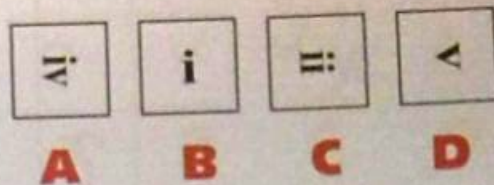
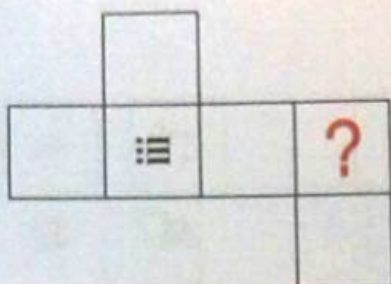
C

d

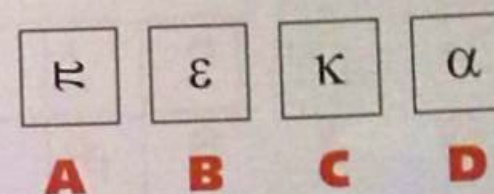

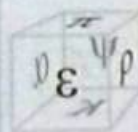
D

¿Cuál de las opciones (A, B, C o D) debería aparecer en lugar del interrogante?

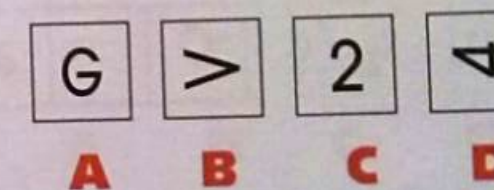


6



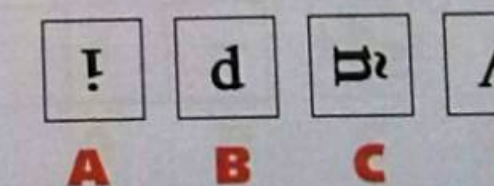
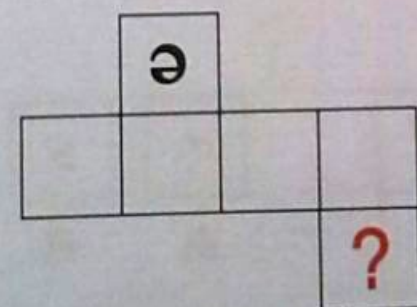

7




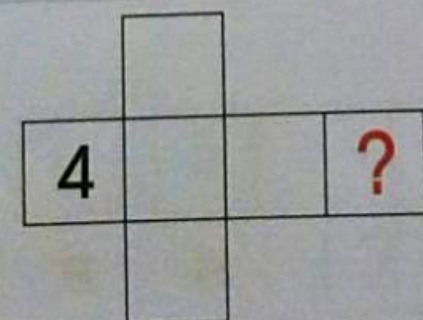
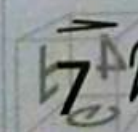
8



9

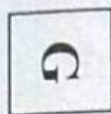

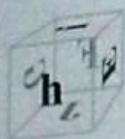


10

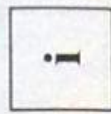


¿Cual de las opciones (A, B, C, D) es la correcta?

11




A



B



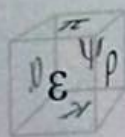


C

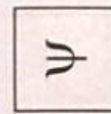


D

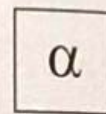
12



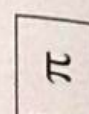
A



B

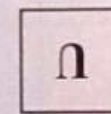

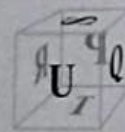


C

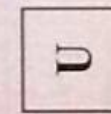


D

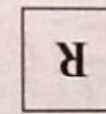
13



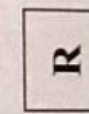
A



B


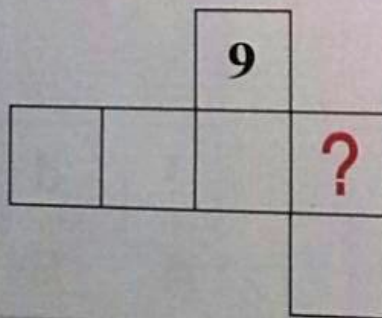


C




D


14




A



B





C




D

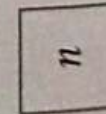
15




A



B



C

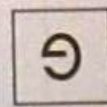



D


¿Cuál de las opciones (A, B, C o D) debería aparecer en lugar del interrogante?

BV


16




A



B



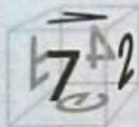


C




D

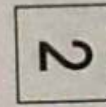
17




A



B



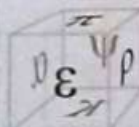


C




D


18



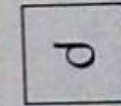
A



B






C




D


19




A



B

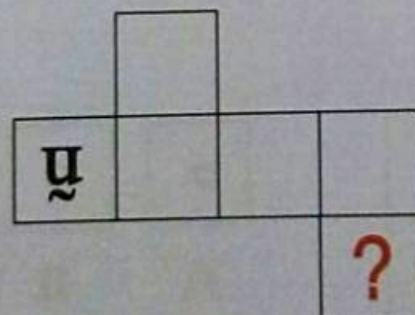



C




D


20



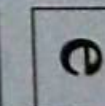
A



B



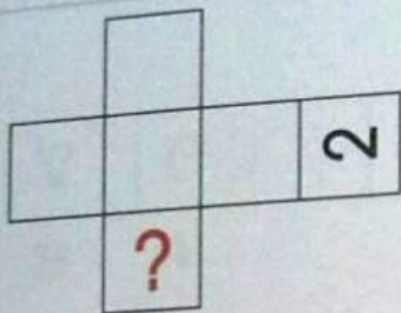
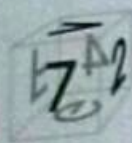
C



D

¿Cuál de las opciones (A, B, C o D) debería aparecer en lugar del interrogante?

21



4

A

7

B


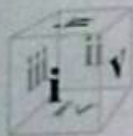
4

C

7

D

22



i

A

>

B


iv

C

!!

D

23



@

A

&

B



8

C

v

D

24



p

A

p

B

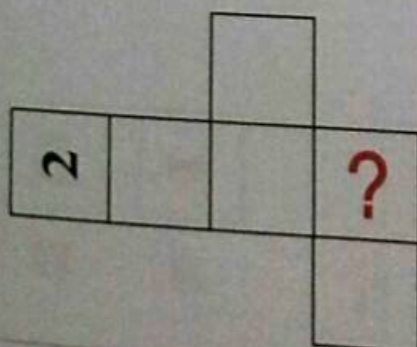
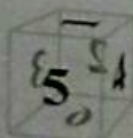
L

C

y

D

25



9

A

6

B

1

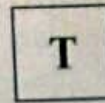

C

1


D

¿Cuál de las opciones (A, B, C o D) debería aparecer en lugar del interrogante?

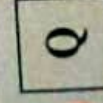
26




A



B


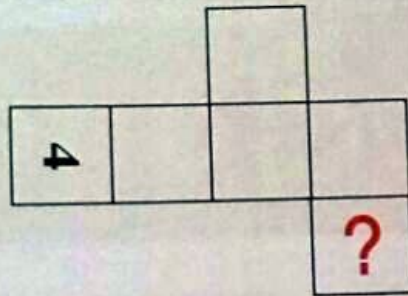
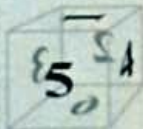


C




D

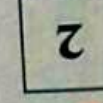
27



A



B



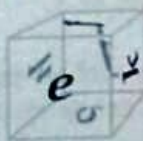


C

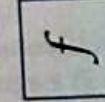


D

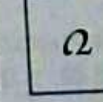
28



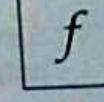
A



B



C



D

A

Instrucciones

Esta prueba trata de evaluar tu **rapidez** y tu **precisión** trabajando con símbolos. En cada ejercicio aparece una fila con diferentes símbolos y tu tarea consistirá en localizar cuántas veces aparece uno determinado. El símbolo que tienes que localizar es siempre el mismo y se presenta en la parte superior de la página; en cada ejercicio puede aparecer 0, 1, 2 o 3 veces, pero nunca más de 3.

Deberás marcar en la **columna A** de la hoja de respuestas **cuántas veces** aparece el símbolo en cada fila (0, 1, 2 o 3) asegurándote de que tu respuesta se corresponda con el número del ejercicio que estás contestando.

Fíjate en los siguientes **ejemplos**.

¿Cuántas veces aparece el **símbolo de la parte superior** en cada fila?



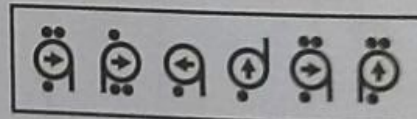
A1



A2



A3



Fíjate en las características del símbolo que se presenta dentro del óvalo. A continuación, trata de localizar un símbolo igual en la fila de símbolos A1. En este ejercicio el símbolo del óvalo aparece una única vez, y es el tercer símbolo de la fila. Por eso la respuesta correcta en el **ejemplo A1** es **1**, opción que ya se ha marcado en la **columna A** de la hoja de respuestas.

Fíjate ahora en el **ejemplo A2**. En esta ocasión no hay ningún símbolo que coincida exactamente con el modelo; por tanto la respuesta correcta es **0**. Marca ahora la respuesta a este ejemplo en la hoja de respuestas, en el espacio correspondiente al **ejemplo A2** de la **columna A**.

Por último, en el **ejemplo A3** el símbolo del óvalo aparece en dos ocasiones, en primera y quinta posición. Por eso, la respuesta que habría que marcar en esta ocasión es **2**. Marca ahora la respuesta en la hoja de respuestas, en el espacio correspondiente al **ejemplo A3** de la **columna A**.

El tiempo máximo para la realización de esta prueba es de **8 minutos**, por lo que deberás trabajar rápidamente esforzándote al máximo en encontrar la respuesta correcta. Si en algún ejercicio no estás completamente seguro de cuál puede ser, elige la opción que creas que es más correcta de las que aparecen; no se penalizará el error.

Si terminas antes del tiempo concedido, repasa tus respuestas, pero **NO** continúes con las demás pruebas.

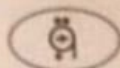


¿Cuántas veces aparece el símbolo de la parte superior en cada fila?



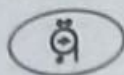
- 1
- 2
- 3
- 4
- 5
- 6
- 7
- 8
- 9
- 10
- 11
- 12
- 13
- 14
- 15
- 16
- 17
- 18
- 19
- 20

¿Cuántas veces aparece el símbolo de la parte superior en cada fila?



- 21 4
- 22 2
- 23 3
- 24 5
- 25 3
- 26 6
- 27 4
- 28 3
- 29 5
- 30 4
- 31 3
- 32 5
- 33 4
- 34 3
- 35 5
- 36 4
- 37 3
- 38 5
- 39 4
- 40 3

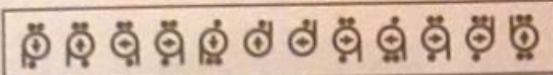
¿Cuántas veces aparece el símbolo de la parte superior en cada fila?

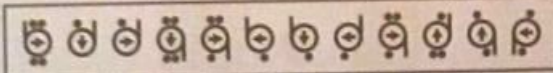



- 41
 42
 43
 44
 45
 46
 47
 48
 49
 50
 51
 52
 53
 54
 55
 56
 57
 58
 59
 60

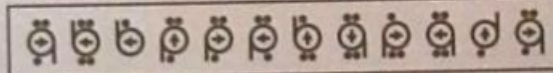
¿Cuántas veces aparece el símbolo de la parte superior en cada fila?

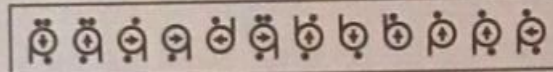


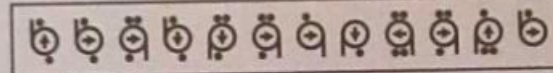
61 

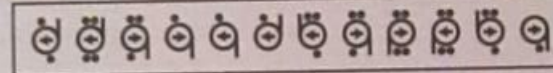
62 

63 

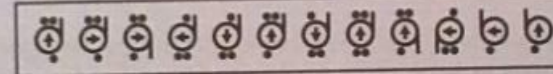
64 

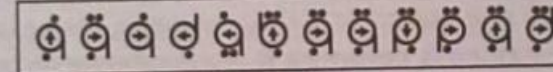
65 

66 

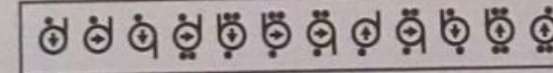
67 


68 


69 

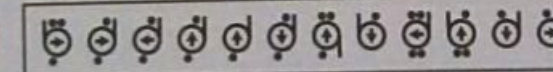
70 

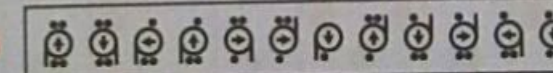
71 

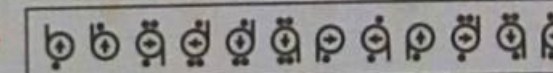
72 

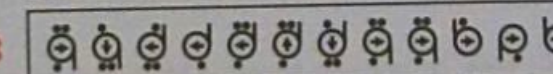
73 

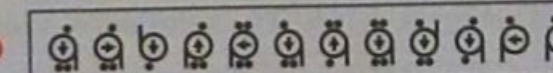
74 

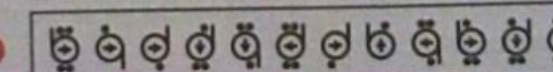
75 

76 

77 

78 

79 

80 

Nivel S

R

Instrucciones

En esta prueba se trabaja con **series** de figuras o dibujos, ordenados de acuerdo con una ley. Tu tarea consistirá en averiguar la ley que ordena las figuras y elegir entre las opciones de respuesta la que continúa la serie.

En todos los ejercicios se presenta la serie en la parte superior y las opciones de respuesta en la parte inferior. Cuando hayas decidido qué opción es la única correcta, marca la letra correspondiente (A, B, C o D) en la hoja de respuestas, en la **columna R**, asegurándote de que coincida con el número del ejercicio que estás contestando.

Fíjate en el **ejemplo R1**.

R1

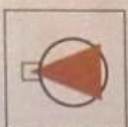
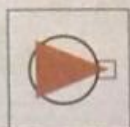
The example shows a sequence of four squares, each containing a different number of dots. The first square has 1 dot in the top-left corner. The second square has 2 dots in the top-left and top-right corners. The third square has 3 dots in the top-left, top-right, and bottom-right corners. The fourth square has 4 dots in the top-left, top-right, bottom-left, and bottom-right corners. A large question mark follows the sequence. Below the sequence are four options, each in a square box: **A** (5 dots), **B** (4 dots), **C** (3 dots), and **D** (2 dots).

En este ejemplo se presenta una serie en la parte superior en la que va aumentando el número de puntos de un recuadro a otro. ¿Qué figura debería ir a continuación, sustituyendo al interrogante?

La respuesta correcta es la **B**. Por eso, en la hoja de respuestas ya se ha marcado esta opción en el espacio correspondiente al **ejemplo R1**.

Fíjate ahora en el **ejemplo R2**.

R2



?

A



B



C



D



En este ejemplo se presenta una figura que va girando 90 grados hacia la derecha de una casilla a otra. ¿Cuál debería ser la próxima figura de la serie?

La respuesta correcta es la **D**. Marca ahora la respuesta a este ejemplo en la hoja de respuestas, en el espacio correspondiente al **ejemplo R2** de la **columna R**.

El tiempo máximo para la realización de esta prueba es de **20 minutos**, por lo que deberás trabajar rápidamente, esforzándote al máximo en encontrar la respuesta correcta. Si en algún ejercicio no estás completamente seguro de cuál puede ser, elige la opción que creas que es más correcta de las que aparecen; no se penalizará el error.

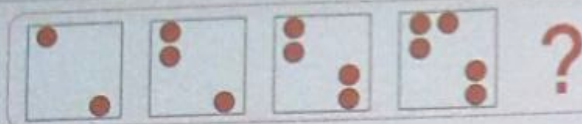
Si terminas antes del tiempo concedido, repasa tus respuestas, pero **NO** continúes con las demás pruebas.



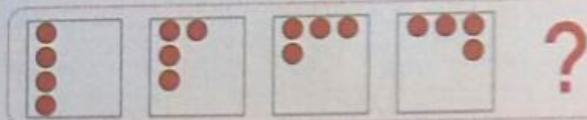
Espera a las instrucciones del examinador.

En cada ejercicio, ¿qué figura (A, B, C o D) debería ir a continuación de cada serie substituyendo al interrogante?


1



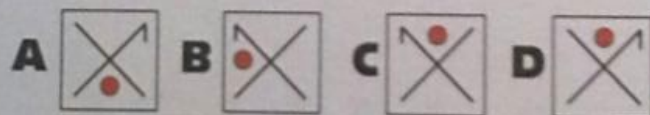
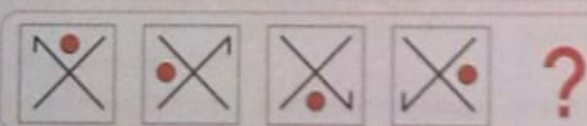
2




3



4



5




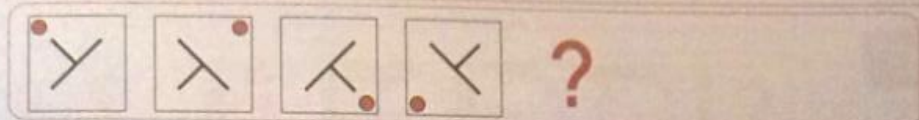
6



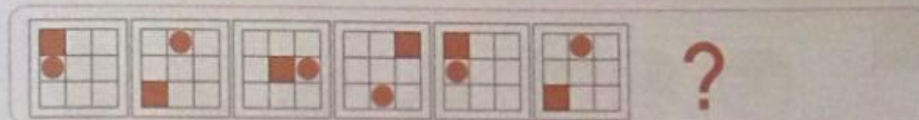
En cada ejercicio, ¿qué figura (A, B, C o D) debería ir a continuación de cada serie sustituyendo al interrogante?

R
BV

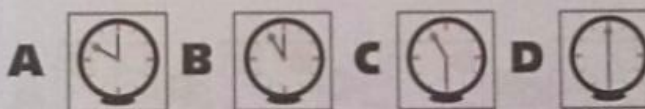
7




8



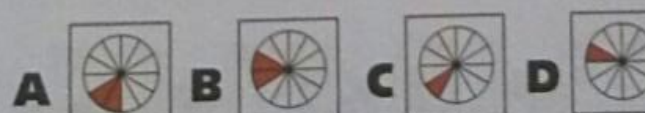
9



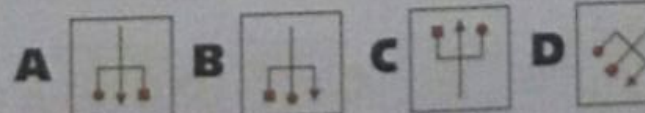
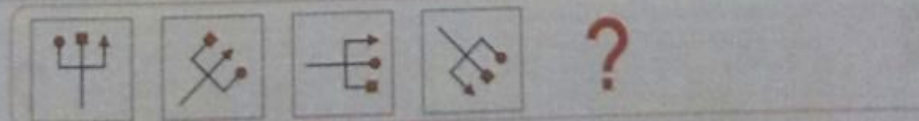
10



11




12



En cada ejercicio, ¿qué figura (A, B, C o D) debería ir a continuación de cada serie sustituyendo al interrogante?


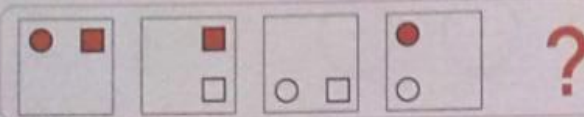
13



14



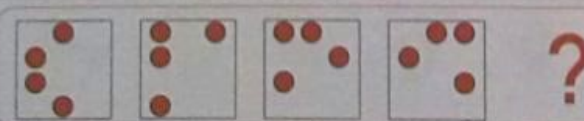
15



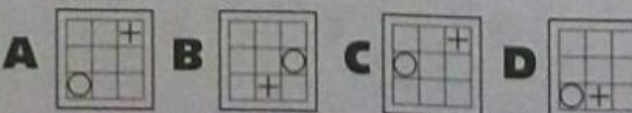
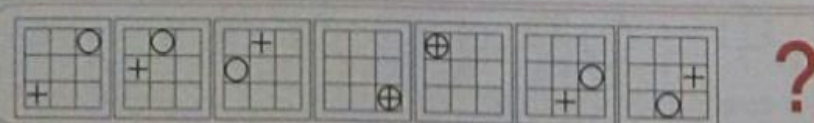
16



17



18



En cada ejercicio, ¿qué figura (A, B, C o D) debería ir a continuación de cada serie substituyendo al interrogante?

Nivel 5

R
BV

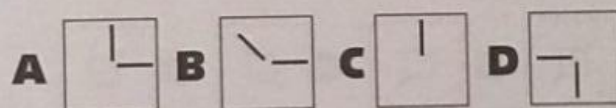
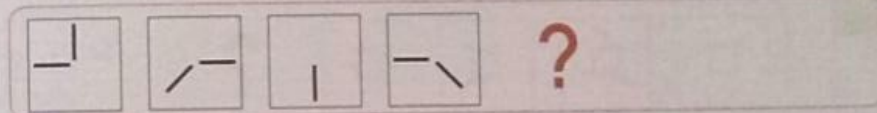
19



20




21



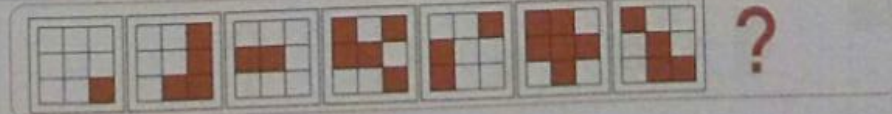
22



23



24



En cada ejercicio, ¿qué figura (A, B, C o D) debería ir a continuación de cada serie sustituyendo al interrogante?

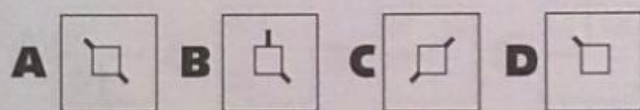

25



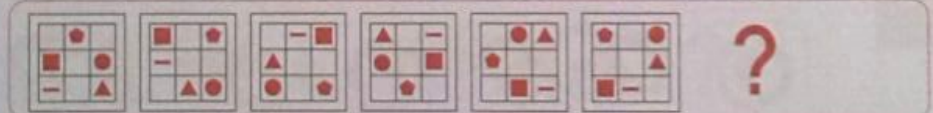
26



27



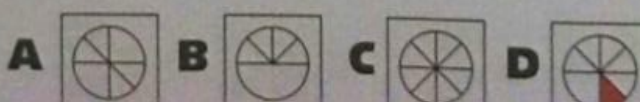
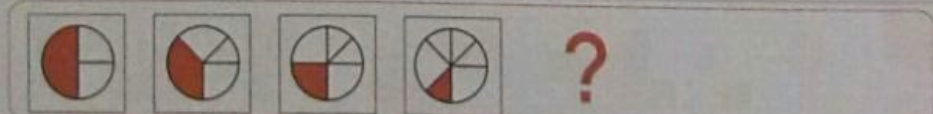
28



29




30





En cada ejercicio, ¿qué figura (A, B, C o D) debería ir a continuación de cada serie substituyendo al interrogante?

31



32



Nivel S

N

Instrucciones

En esta prueba encontrarás distintos ejercicios numéricos que tendrás que resolver. Para ello tendrás que analizar la información que se presenta y determinar qué debe aparecer en lugar del interrogante. Cuando lo hayas decidido, deberás marcar la letra de la opción correspondiente (A, B, C, D o E) en la hoja de respuestas, en la **columna N**, asegurándote de que coincida con el ejercicio que estás contestando. Ten en cuenta que en este ejercicio hay 5 posibles opciones de respuesta.

En un primer tipo de ejercicios aparecerá una igualdad numérica en la que se ha sustituido uno de los elementos por un interrogante (?). Tu tarea consistirá en averiguar qué valor numérico debe aparecer en lugar del interrogante para que se cumpla la igualdad.

Fíjate en el **ejemplo N1**.

N1. ¿Qué número debe aparecer en lugar del interrogante (?) para que se cumpla la igualdad?

$$16 - 4 = ? + 2$$

A. 8 B. 10 C. 12 D. 14 E. 16

La primera parte de la igualdad, $16 - 4$, da lugar a 12. Para que en la segunda parte se obtenga el mismo resultado sería necesario sustituir el interrogante por 10, quedando la igualdad como $16 - 4 = 10 + 2$. Por tanto, la respuesta correcta a **N1** sería la **B**, opción que ya se ha marcado en la **columna N** de la hoja de respuestas.

En otros ejercicios tendrás que observar una serie de números ordenados de acuerdo con una ley y determinar cuál debe continuar la serie ocupando el lugar del interrogante.

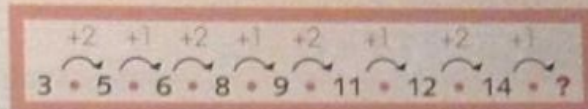
Fíjate en el **ejemplo N2**.

N2. ¿Qué número debe aparecer en lugar del interrogante (?) de modo que continúe la serie?

$$3 \cdot 5 \cdot 6 \cdot 8 \cdot 9 \cdot 11 \cdot 12 \cdot 14 \cdot ?$$

A. 13 B. 15 C. 16 D. 18 E. 20

En este ejemplo la serie combina aumentos de 2 unidades y de 1 unidad (+2, +1, +2, +1...). Como puede observarse, en el lugar del interrogante debe aumentarse 1 unidad con respecto al número anterior, por lo que el número que continuaría la serie sería el 15. Por tanto, la respuesta correcta a **N2** es **B**.



Marca ahora la respuesta a este ejemplo en la hoja de respuestas, en el espacio correspondiente al **ejemplo N2** de la **columna N**.

Finalmente, en un tercer tipo de ejercicios aparecen tablas en las que un valor se ha sustituido intencionalmente por un interrogante (?) y otros valores han sido borrados («»). Tu tarea consistirá en averiguar el número que debería aparecer en lugar del interrogante.

Fíjate en el **ejemplo N3**.

N3. De acuerdo con los datos de la tabla, ¿qué número debe aparecer en lugar del interrogante (?)?

Puntos obtenidos en la compra			
Artículo	Unidades	Puntos/Unidad	Total puntos
Jabón	10	?	30
Aceite	20	2	
			70

- A. 3
- B. 5
- C. 10
- D. 40
- E. 60

A partir de los datos de la tabla sabemos que se han comprado 10 unidades de jabón y que se han obtenido 30 puntos, por lo que se puede deducir que el valor del interrogante es igual a 3 (10 unidades \times 3 puntos/unidad = 30 puntos). Por tanto, la respuesta correcta al **ejemplo N3** es **A**; márcala ahora en la **columna N** de la hoja de respuestas. Fíjate que en este ejemplo no es necesario calcular el valor que ha sido borrado para obtener el valor del interrogante, pero en otros ejercicios sí será necesario calcular todos o algunos de estos valores para alcanzar la solución.

Cuando comience la prueba encontrarás más ejercicios como estos. El tiempo máximo para su realización es de **20 minutos**, por lo que deberás trabajar rápidamente, esforzándote al máximo en encontrar la respuesta correcta. Si en algún ejercicio no estás completamente seguro de cuál puede ser, elige la opción que creas que es más correcta de las cinco que aparecen; no se penalizará el error.

Si terminas antes del tiempo concedido, repasa tus respuestas, pero **NO** continúes con las demás pruebas.



En los ejercicios 1 a 5, ¿qué número debe aparecer en lugar del interrogante (?) para que se cumpla la igualdad?

1 $6 + ? + 9 = 11 \times 2$

- A. 2 B. 5 C. 6 D. 7 E. 8

2 $(3 \times ?) - 5 = (5 + 7 + 14) : 2$

- A. 2 B. 4 C. 6 D. 7 E. 10

3 $(30 : 5) : (14 : 7) = [(? \times 5) + 3] : 11$

- A. 1 B. 2 C. 3 D. 4 E. 6

4 $(3 + ?) \times 4 = (2 \times 3) \times 6$

- A. 2 B. 3 C. 4 D. 6 E. 9

5 $(2 + 1)^2 \times ? = 6 \times 3$

- A. 2 B. 3 C. 4 D. 6 E. 9

En los ejercicios 6 a 10, ¿qué número debe aparecer en lugar del interrogante (?) de modo que continúe la serie?

6 $2 \cdot 3 \cdot 6 \cdot 7 \cdot 14 \cdot 15 \cdot 30 \cdot 31 \cdot ?$

- A. 32 B. 34 C. 38 D. 61 E. 62

7 $3 \cdot 2 \cdot 4 \cdot 3 \cdot 6 \cdot ?$

- A. 3 B. 4 C. 5 D. 7 E. 8

8 $20 \cdot 17 \cdot 21 \cdot 19 \cdot 24 \cdot 23 \cdot 29 \cdot 26 \cdot 30 \cdot 28 \cdot ?$

- A. 25 B. 31 C. 32 D. 33 E. 34

9 $6 \cdot 4 \cdot 8 \cdot 6 \cdot 12 \cdot 10 \cdot 20 \cdot 18 \cdot ?$

- A. 16 B. 22 C. 30 D. 32 E. 36

10 $18 \cdot 12 \cdot 24 \cdot 18 \cdot 36 \cdot 30 \cdot 60 \cdot 54 \cdot ?$

- A. 48 B. 50 C. 66 D. 90 E. 108

En los ejercicios 11 a 15, ¿qué número debe aparecer en lugar del interrogante (?) a partir de los datos de la tabla?

11		Venta de productos por meses				Meses				
		Televisión	Altavoces	Auriculares	Total					
		Julio			5					
		Agosto	5		10					
		Septiembre	15	5						
		Total	30		35					
					?					

- A. 40
B. 65
C. 95
D. 100
E. 105

12		Venta de productos por meses				Meses				
		Televisión	Altavoces	Auriculares	Total					
		Octubre		15	60					
		Noviembre		10	30					
		Diciembre	20	20						
		Total	45		30					

- A. 4
B. 5
C. 15
D. 30
E. 45

13		Venta de productos por meses				Meses				
		Batidoras	Tostadoras	Freidoras	Total					
		Junio		15	30					
		Julio	10	10	25					
		Agosto	5		15					
		Septiembre		15	45					
		Total		45	50					

- A. 95
B. 100
C. 120
D. 125
E. 135

14	Puntos obtenidos en la compra				A. 5
	Artículo	Unidades	Puntos/Unidad	Total puntos	B. 8
	Leche	23	?		C. 92
	Mayonesa	18	4		D. 114
	Mermelada	10	6	60	E. 147
				247	

- A. 5
B. 8
C. 92
D. 115
E. 142

15		Venta de productos por meses				Meses				
		Televisión	Altavoces	Auriculares	Total					
		Abril		10	25					
		Mayo	15		35					
		Junio	30	20	5					
		Total	50		30					

- A. 5
B. 10
C. 15
D. 20
E. 25

En los ejercicios 16 a 20, ¿qué número debe aparecer en lugar del interrogante (?) para que se cumpla la igualdad?

16 $[(? - 12) : 8] \times 3 = 35 - 23$

- A. 20 B. 24 C. 32 D. 44 E. 48

17 $750 : 5 = 5 \times ?$

- A. 3 B. 15 C. 30 D. 50 E. 150

18 $30 + 25 - 16 = [(? \times 2) : 4] - 1$

- A. 5 B. 20 C. 40 D. 80 E. 160

19 $(? - 5)^2 : 8 = 42 : 21$

- A. 3 B. 7 C. 9 D. 13 E. 41

20 $230 - (15 \times 4) + (135 : 5) = [(? + 56) \times 3] - 7$

- A. 2 B. 4 C. 7 D. 12 E. 15

En los ejercicios 21 a 26, ¿qué número debe aparecer en lugar del interrogante (?) de modo que continúe la serie?

21 $48 \cdot 47 \cdot 49 \cdot 46 \cdot 50 \cdot 45 \cdot 51 \cdot 44 \cdot 52 \cdot 43 \cdot ?$

- A. 42 B. 50 C. 51 D. 52 E. 53

22 $4 \cdot 12 \cdot 6 \cdot 24 \cdot 12 \cdot 60 \cdot 30 \cdot ?$

- A. 12 B. 38 C. 90 D. 120 E. 180

23 $3 \cdot 2 \cdot 6 \cdot 4 \cdot 12 \cdot 8 \cdot 24 \cdot 16 \cdot 48 \cdot 32 \cdot 96 \cdot ?$

- A. 64 B. 80 C. 89 D. 92 E. 95

24 $2 \cdot 4 \cdot 6 \cdot 3 \cdot 5 \cdot 10 \cdot 12 \cdot 6 \cdot 8 \cdot ?$

- A. 4 B. 5 C. 10 D. 13 E. 16

25 $52 \cdot 50 \cdot 46 \cdot 52 \cdot 60 \cdot 50 \cdot 38 \cdot 52 \cdot 68 \cdot 50 \cdot ?$

- A. 14 B. 30 C. 48 D. 52 E. 70

26 $39 \cdot 40 \cdot 38 \cdot 19 \cdot 22 \cdot 18 \cdot 9 \cdot 14 \cdot 8 \cdot 4 \cdot ?$

- A. 2 B. 5 C. 7 D. 10 E. 11

En los ejercicios 27 a 32, ¿qué número debe aparecer en lugar del interrogante (?) a partir de los datos de la tabla?

27		Venta de productos por meses				Meses					
		Plancha	Depiladora	Afeitadora	Total						
		20	5		40						
				10							
			5	5	25						
		40	20		?						




- A. 60
B. 65
C. 75
D. 90
E. 95

28		Venta de productos por meses				Meses					
		Hornos	Microondas	Vitrocerámica	Total						
		25	40	5	70						
			45	50							
		30		?	90						
		35	30		105						
		145	155								

- A. 10
B. 15
C. 20
D. 30
E. 60

29		Venta de productos por meses				Meses					
		Cafetera	Tostadora	Freidora	Total						
			5	20	35						
		5			30						
		15	30	?							
			55	40							

- A. 5
B. 10
C. 15
D. 20
E. 25

30	Puntos obtenidos en la compra				A. 26
	Artículo	Unidades	Puntos/Unidad	Total puntos	B. 265
	Chocolate	5	225		C. 270
	Harina	6	?		D. 280
	Nueces	8	140		E. 1.680
	3.925				

Nivel S

M

Instrucciones

En esta prueba aparecen varios tipos de situaciones sobre las cuales se te harán algunas preguntas. Lee atentamente cada pregunta, observa el dibujo y elige cuál de las opciones es la más adecuada.

Recuerda que solo existe **UNA** opción correcta. Cuando hayas decidido qué opción es, marca la letra correspondiente (A, B, C o D) en la hoja de respuestas, en la **columna M**, asegurándote de que coincida con el número del ejercicio que estás contestando.

Fijate en el **ejemplo M1**.

M1

¿Cuál de las tres botellas podría quitarse sin que se cayera la bandeja?
(Si no hay diferencia, marca D).



En este ejemplo se presenta una bandeja en equilibrio sobre una mesa y encima de ella, 3 botellas. Si se quitase la botella A o la botella B, la bandeja perdería el equilibrio y caería al suelo; si quitáramos la botella C la bandeja se mantendría en equilibrio. Por lo tanto, la solución al **ejemplo M1** es **C**, opción que ya se ha marcado en la **columna M** de la hoja de respuestas.

Fíjate ahora en el **ejemplo M2**.

M2

Si los tres vehículos se están desplazando a 70 km/h, ¿cuál va **MÁS** rápido?
(Si no hay diferencia, marca D).

A



B



C



Al desplazarse los tres vehículos a la misma velocidad (70 km/h), los tres van igual de rápido. Por lo tanto, la solución a este ejemplo es la opción **D** (no hay diferencia). Marca ahora la respuesta a este ejemplo en la hoja de respuestas, en el espacio correspondiente al **ejemplo M2** de la **columna M**.

El tiempo máximo para la realización de esta prueba es de **12 minutos**, por lo que deberás trabajar rápidamente esforzándote al máximo en encontrar la respuesta correcta. Si en algún ejercicio no estás completamente seguro de cuál puede ser, elige la opción que creas que es más correcta de las que aparecen; no se penalizará el error.


Si terminas antes del tiempo concedido repasa tus respuestas, pero **NO** continúes con las demás pruebas.



Espera a las instrucciones del examinador.

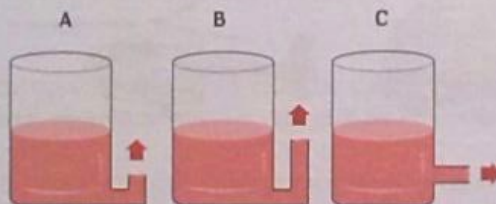
1

Hacia qué dirección se desplazará la bola X tras ser golpeada por la bola blanca?




2

¿De qué recipiente saldrá el líquido con MÁS fuerza?
(Si no hay diferencia, marca D).



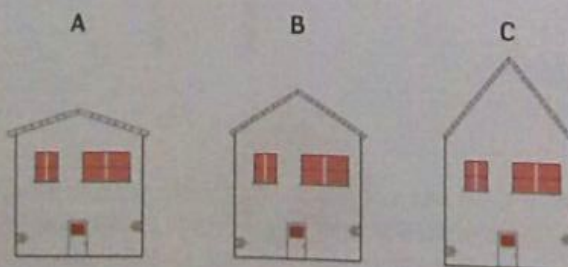
3

¿Cuál de estos tres recipientes con agua pesa MENOS?
(Si no hay diferencia, marca D).




4

¿Cuál de estos tres tejados es MÁS probable que se rompa en caso de nevada? (Si no hay diferencia, marca D).



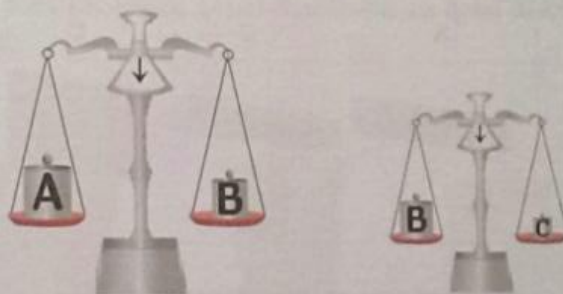
5

¿Con qué bomba se inflará **MÁS** lentamente un colchón flotador? (Si no hay diferencia, marca D).



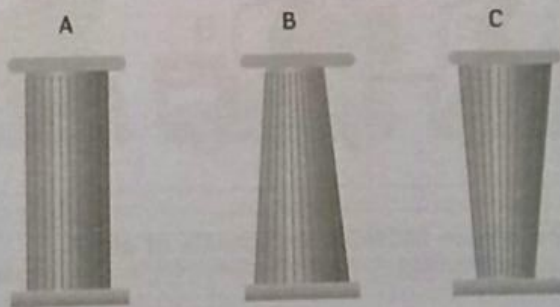
6

¿Cuál de estos tres pesos (A, B o C) pesa **MENOS**? (Si no hay diferencia, marca D).



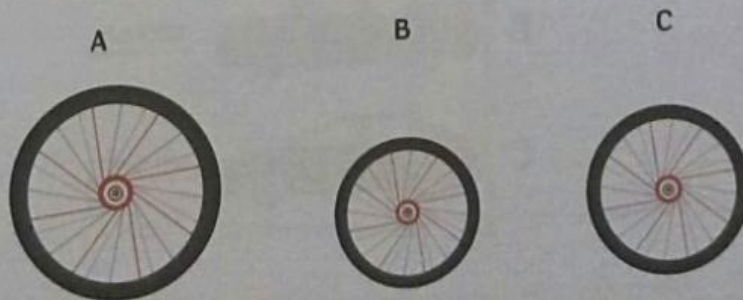
7

¿Qué columna será **MÁS** resistente en caso de terremoto? (Si no hay diferencia, marca D).



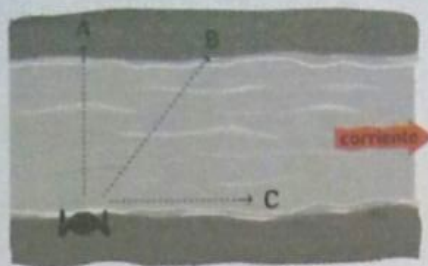
8

¿Qué rueda daría **MÁS** vueltas para recorrer la misma distancia? (Si no hay diferencia, marca D).



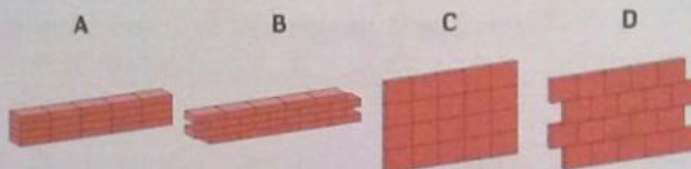
9

¿Qué trayectoria (A, B o C) debe seguir el nadador para cruzar el río con **MENOS** esfuerzo? (Si no hay diferencia, marca D).



10

¿Qué colocación de los ladrillos hace la pared **MENOS** resistente?




11

¿En qué caso habrá que ejercer **MENOS** fuerza para levantar las ruedas delanteras del carro? (Si no hay diferencia, marca D).



12

¿Qué coche ofrece **MENOS** resistencia al aire? (Si no hay diferencia, marca D).



13

¿Cómo debe agarrarse la persona a la roca para que no la arrastre la corriente? (Si no hay diferencia, marca D).

A



B



C



14

Si tenemos estas tres linternas, ¿cuál iluminará un área **MAYOR**? (Si no hay diferencia, marca D).

A



B



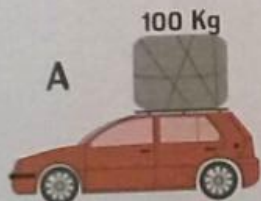
C



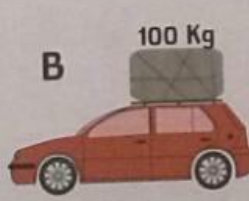
15

¿Qué coche es **MENOS** probable que vuelque? (Si no hay diferencia, marca D).

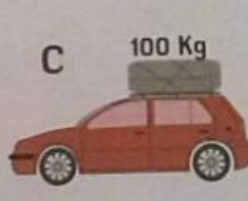
A



B

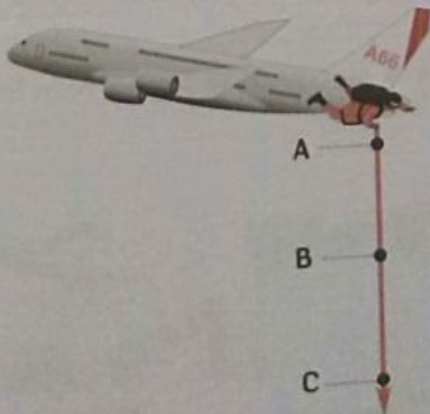


C



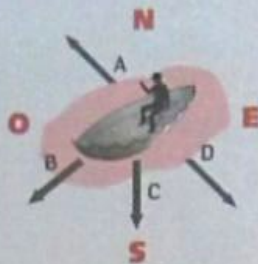
16

¿En qué punto alcanzará **MÁS** velocidad el paracaidista? (Si no hay diferencia, marca D).



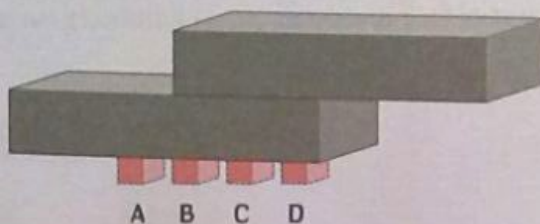
17

Si el viento sopla DEL NORTE, ¿hacia qué dirección se está moviendo la barca?



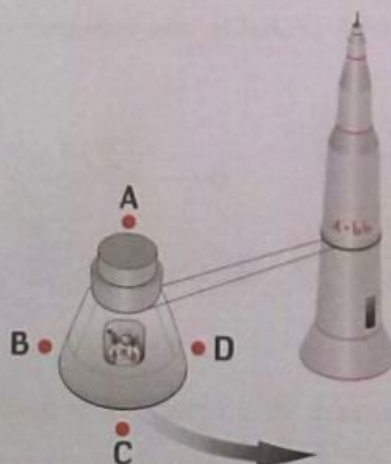
18

Si dejáramos tan sólo UNO de los bloques (A, B, C o D), ¿con cuál se mantendría la estructura en equilibrio?



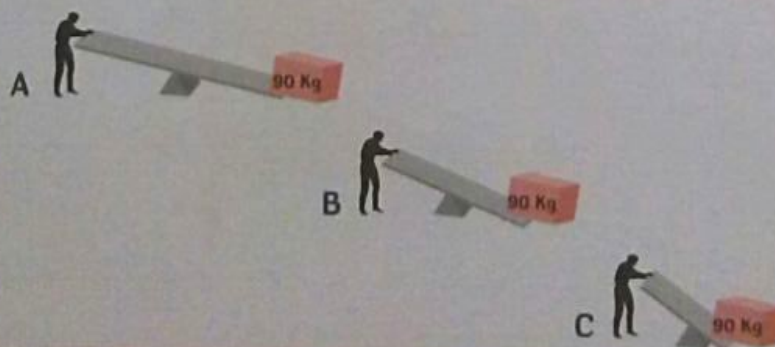
19

¿Hacia qué zona de la cápsula será impulsado el astronauta cuando la máquina gire en el sentido indicado por la flecha?




20

¿En qué caso hay que ejercer MÁS fuerza para levantar la caja?
(Si no hay diferencia, marca D).



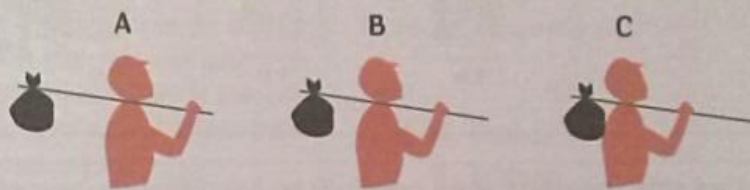
21

¿Qué ventilador necesita **MÁS** potencia para dar una vuelta completa?
(Si no hay diferencia, marca D).



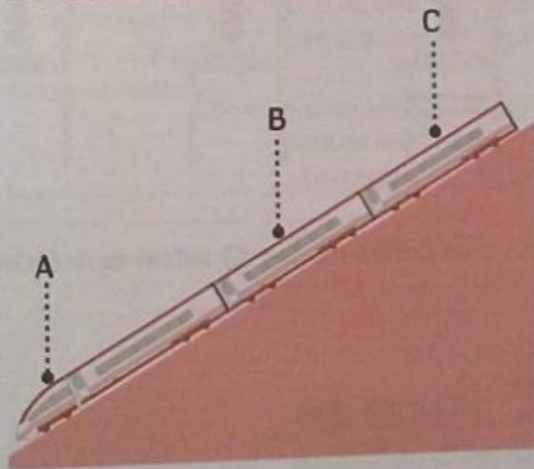
22

¿Cuál es la manera **MENOS** costosa de llevar el hatillo?
(Si no hay diferencia, marca D).



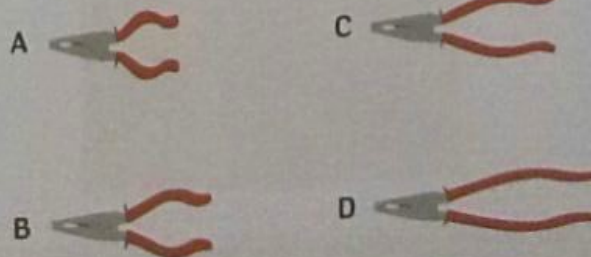
23

¿En cuál de los puntos la velocidad es **MENOR**? (Si no hay diferencia, marca D).



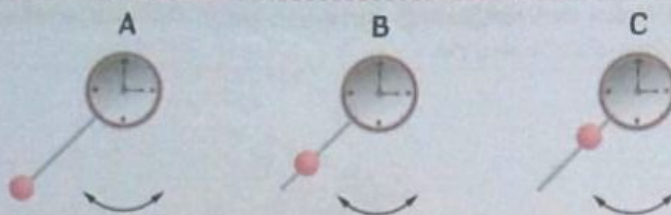
24

¿Con qué alicate se ejercerá **MÁS** presión sobre un objeto aplicando la misma fuerza?



25

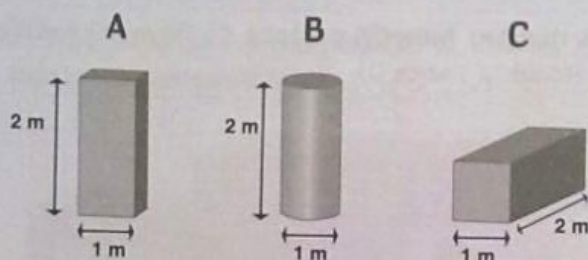
¿Cuál de los tres péndulos tardará **MÁS** tiempo en hacer su recorrido completo? (Si no hay diferencia, marca D).



26

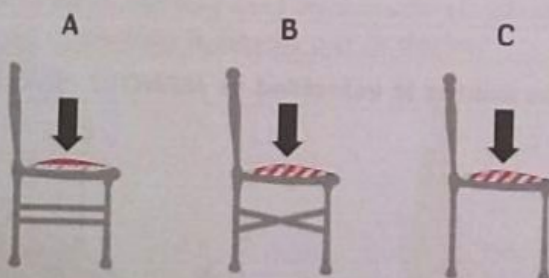
¿Cuál de los tres objetos tiene **MENOS** volumen?

(Si no hay diferencia, marca D).



27

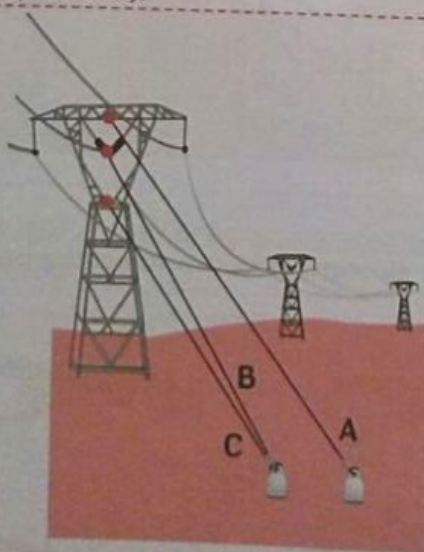
¿Qué silla soportará **MÁS** peso? (Si no hay diferencia, marca D).



28

¿Cuál de estos tres cables (A, B o C) refuerza **MEJOR** el poste?

(Si no hay diferencia, marca D).



Nivel S

O

Instrucciones

En esta prueba se presentan grupos de cuatro palabras entre las cuales hay una que está mal escrita. Tu tarea consiste en descubrir la palabra (A, B, C o D) en la que se ha cometido una falta de ortografía intencionadamente.

Ten en cuenta que la falta de ortografía puede ser de cualquier tipo, incluido el hecho de que falte o sobre una tilde. Cuando hayas decidido qué palabra es la que está mal escrita, marca la letra (A, B, C o D) en la hoja de respuestas, en la **columna O**, asegurándote de que se corresponda con el número del ejercicio que estás contestando.

Fíjate en el **ejemplo O1**.

- O1** A. año
B. berso
C. vuelo
D. campana

La respuesta correcta a este ejemplo es la **B**, opción que ya se ha marcado en la **columna O** de la hoja de respuestas. La palabra **berso** está incorrectamente escrita: la grafía correcta es **verso**.

Fíjate en el **ejemplo O2**.

- O2** A. bosque
B. armario
C. telon
D. libro

En este caso, la respuesta correcta sería la **C**, ya que la palabra **telón** lleva tilde en la o.

Marca ahora la respuesta a este ejemplo en la hoja de respuestas, en el espacio correspondiente al **ejemplo O2** de la **columna O**.

El tiempo máximo para la realización de esta prueba es de **10 minutos**, por lo que deberás trabajar rápidamente, esforzándote al máximo en encontrar la respuesta correcta. Si en algún ejercicio no estás completamente seguro de cuál puede ser, elige la opción que creas que es más correcta de las que aparecen; no se penalizará el error.

Si terminas antes del tiempo concedido, repasa tus respuestas.



Escucha las instrucciones del examinador.

1 A. etcétera
B. solvencia
C. ventrículo
D. lleso

2 A. ojo
B. música
C. inhundar
D. árido

3 A. abdicar
B. area
C. ombligo
D. extinguir

4 A. inexorable
B. coraje
C. ingerir
D. hunir

5 A. aereo
B. conserje
C. drástico
D. ataviar

6 A. hay
B. gemido
C. carácter
D. harpón

7 A. embarcar
B. ambíguo
C. arroyo
D. exótico

8 A. léntamente
B. utopía
C. aprensivo
D. irascible

9 A. asfixia
B. bano
C. hiedra
D. ademán

10 A. voleto
B. urna
C. jabalí
D. honestidad

11 A. savia
B. ciénaga
C. andamiage
D. inmediatamente

12 A. helio
B. enorgullecer
C. besícula
D. cónyuge

13 A. traspié
B. urón
C. embellecer
D. vasija

14 A. exámen
B. después
C. útil
D. afán

15 A. río
B. barar
C. hiena
D. buhardilla

16 A. sátira
B. crujir
C. subrayar
D. extrategia

17 A. abominable
B. adherencia
C. caído
D. allegado

18 A. dátil
B. imagen
C. geranio
D. antejo

19 A. rehusar
B. volátil
C. ennegrecer
D. herbívoro

20 A. báscula
B. egoísmo
C. harrear
D. astado

21 A. jersey
B. berengena
C. exhibir
D. atestar

22 A. oyuelo
B. envidia
C. holgado
D. vehemente

23 A. inglés
B. rellano
C. estraviado
D. veintidós

24 A. reír
B. baúl
C. acabáramos
D. hechar

25 A. discreción
B. ojalata
C. azar
D. epopeya

26 A. halógeno
B. inócuo
C. visillo
D. orfebre

27 A. jeringuilla
B. vello
C. balleta
D. ámbar

28 A. cavidad
B. heno
C. espectacular
D. arresto

29 A. asimismo
B. tejer
C. aborígen
D. detuvo

30 A. exacerbar
B. leído
C. hayar
D. hostil

31 A. huida
B. estribar
C. hastío
D. hermita

32 A. hacinamiento
B. enmienda
C. sitúa
D. corage

V

V1	A	B	C	D
1	<input type="radio"/>	<input type="radio"/>	<input type="radio"/>	<input type="radio"/>
2	<input type="radio"/>	<input type="radio"/>	<input type="radio"/>	<input type="radio"/>
3	<input type="radio"/>	<input type="radio"/>	<input type="radio"/>	<input type="radio"/>
4	<input type="radio"/>	<input type="radio"/>	<input type="radio"/>	<input type="radio"/>
5	<input type="radio"/>	<input type="radio"/>	<input type="radio"/>	<input type="radio"/>
6	<input type="radio"/>	<input type="radio"/>	<input type="radio"/>	<input type="radio"/>
7	<input type="radio"/>	<input type="radio"/>	<input type="radio"/>	<input type="radio"/>
8	<input type="radio"/>	<input type="radio"/>	<input type="radio"/>	<input type="radio"/>
9	<input type="radio"/>	<input type="radio"/>	<input type="radio"/>	<input type="radio"/>
10	<input type="radio"/>	<input type="radio"/>	<input type="radio"/>	<input type="radio"/>
11	<input type="radio"/>	<input type="radio"/>	<input type="radio"/>	<input type="radio"/>
12	<input type="radio"/>	<input type="radio"/>	<input type="radio"/>	<input type="radio"/>
13	<input type="radio"/>	<input type="radio"/>	<input type="radio"/>	<input type="radio"/>
14	<input type="radio"/>	<input type="radio"/>	<input type="radio"/>	<input type="radio"/>
15	<input type="radio"/>	<input type="radio"/>	<input type="radio"/>	<input type="radio"/>
16	<input type="radio"/>	<input type="radio"/>	<input type="radio"/>	<input type="radio"/>
17	<input type="radio"/>	<input type="radio"/>	<input type="radio"/>	<input type="radio"/>
18	<input type="radio"/>	<input type="radio"/>	<input type="radio"/>	<input type="radio"/>
19	<input type="radio"/>	<input type="radio"/>	<input type="radio"/>	<input type="radio"/>
20	<input type="radio"/>	<input type="radio"/>	<input type="radio"/>	<input type="radio"/>
21	<input type="radio"/>	<input type="radio"/>	<input type="radio"/>	<input type="radio"/>
22	<input type="radio"/>	<input type="radio"/>	<input type="radio"/>	<input type="radio"/>
23	<input type="radio"/>	<input type="radio"/>	<input type="radio"/>	<input type="radio"/>
24	<input type="radio"/>	<input type="radio"/>	<input type="radio"/>	<input type="radio"/>
25	<input type="radio"/>	<input type="radio"/>	<input type="radio"/>	<input type="radio"/>
26	<input type="radio"/>	<input type="radio"/>	<input type="radio"/>	<input type="radio"/>
27	<input type="radio"/>	<input type="radio"/>	<input type="radio"/>	<input type="radio"/>
28	<input type="radio"/>	<input type="radio"/>	<input type="radio"/>	<input type="radio"/>
29	<input type="radio"/>	<input type="radio"/>	<input type="radio"/>	<input type="radio"/>
30	<input type="radio"/>	<input type="radio"/>	<input type="radio"/>	<input type="radio"/>
31	<input type="radio"/>	<input type="radio"/>	<input type="radio"/>	<input type="radio"/>
32	<input type="radio"/>	<input type="radio"/>	<input type="radio"/>	<input type="radio"/>

E

E1	A	B	C	D
1	<input type="radio"/>	<input type="radio"/>	<input type="radio"/>	<input type="radio"/>
2	<input type="radio"/>	<input type="radio"/>	<input type="radio"/>	<input type="radio"/>
3	<input type="radio"/>	<input type="radio"/>	<input type="radio"/>	<input type="radio"/>
4	<input type="radio"/>	<input type="radio"/>	<input type="radio"/>	<input type="radio"/>
5	<input type="radio"/>	<input type="radio"/>	<input type="radio"/>	<input type="radio"/>
6	<input type="radio"/>	<input type="radio"/>	<input type="radio"/>	<input type="radio"/>
7	<input type="radio"/>	<input type="radio"/>	<input type="radio"/>	<input type="radio"/>
8	<input type="radio"/>	<input type="radio"/>	<input type="radio"/>	<input type="radio"/>
9	<input type="radio"/>	<input type="radio"/>	<input type="radio"/>	<input type="radio"/>
10	<input type="radio"/>	<input type="radio"/>	<input type="radio"/>	<input type="radio"/>
11	<input type="radio"/>	<input type="radio"/>	<input type="radio"/>	<input type="radio"/>
12	<input type="radio"/>	<input type="radio"/>	<input type="radio"/>	<input type="radio"/>
13	<input type="radio"/>	<input type="radio"/>	<input type="radio"/>	<input type="radio"/>
14	<input type="radio"/>	<input type="radio"/>	<input type="radio"/>	<input type="radio"/>
15	<input type="radio"/>	<input type="radio"/>	<input type="radio"/>	<input type="radio"/>
16	<input type="radio"/>	<input type="radio"/>	<input type="radio"/>	<input type="radio"/>
17	<input type="radio"/>	<input type="radio"/>	<input type="radio"/>	<input type="radio"/>
18	<input type="radio"/>	<input type="radio"/>	<input type="radio"/>	<input type="radio"/>
19	<input type="radio"/>	<input type="radio"/>	<input type="radio"/>	<input type="radio"/>
20	<input type="radio"/>	<input type="radio"/>	<input type="radio"/>	<input type="radio"/>
21	<input type="radio"/>	<input type="radio"/>	<input type="radio"/>	<input type="radio"/>
22	<input type="radio"/>	<input type="radio"/>	<input type="radio"/>	<input type="radio"/>
23	<input type="radio"/>	<input type="radio"/>	<input type="radio"/>	<input type="radio"/>
24	<input type="radio"/>	<input type="radio"/>	<input type="radio"/>	<input type="radio"/>
25	<input type="radio"/>	<input type="radio"/>	<input type="radio"/>	<input type="radio"/>
26	<input type="radio"/>	<input type="radio"/>	<input type="radio"/>	<input type="radio"/>
27	<input type="radio"/>	<input type="radio"/>	<input type="radio"/>	<input type="radio"/>
28	<input type="radio"/>	<input type="radio"/>	<input type="radio"/>	<input type="radio"/>

A

A1	A	B	C	D
1	<input type="radio"/>	<input type="radio"/>	<input type="radio"/>	<input type="radio"/>
2	<input type="radio"/>	<input type="radio"/>	<input type="radio"/>	<input type="radio"/>
3	<input type="radio"/>	<input type="radio"/>	<input type="radio"/>	<input type="radio"/>
4	<input type="radio"/>	<input type="radio"/>	<input type="radio"/>	<input type="radio"/>
5	<input type="radio"/>	<input type="radio"/>	<input type="radio"/>	<input type="radio"/>
6	<input type="radio"/>	<input type="radio"/>	<input type="radio"/>	<input type="radio"/>
7	<input type="radio"/>	<input type="radio"/>	<input type="radio"/>	<input type="radio"/>
8	<input type="radio"/>	<input type="radio"/>	<input type="radio"/>	<input type="radio"/>
9	<input type="radio"/>	<input type="radio"/>	<input type="radio"/>	<input type="radio"/>
10	<input type="radio"/>	<input type="radio"/>	<input type="radio"/>	<input type="radio"/>
11	<input type="radio"/>	<input type="radio"/>	<input type="radio"/>	<input type="radio"/>
12	<input type="radio"/>	<input type="radio"/>	<input type="radio"/>	<input type="radio"/>
13	<input type="radio"/>	<input type="radio"/>	<input type="radio"/>	<input type="radio"/>
14	<input type="radio"/>	<input type="radio"/>	<input type="radio"/>	<input type="radio"/>
15	<input type="radio"/>	<input type="radio"/>	<input type="radio"/>	<input type="radio"/>
16	<input type="radio"/>	<input type="radio"/>	<input type="radio"/>	<input type="radio"/>
17	<input type="radio"/>	<input type="radio"/>	<input type="radio"/>	<input type="radio"/>
18	<input type="radio"/>	<input type="radio"/>	<input type="radio"/>	<input type="radio"/>
19	<input type="radio"/>	<input type="radio"/>	<input type="radio"/>	<input type="radio"/>
20	<input type="radio"/>	<input type="radio"/>	<input type="radio"/>	<input type="radio"/>
21	<input type="radio"/>	<input type="radio"/>	<input type="radio"/>	<input type="radio"/>
22	<input type="radio"/>	<input type="radio"/>	<input type="radio"/>	<input type="radio"/>
23	<input type="radio"/>	<input type="radio"/>	<input type="radio"/>	<input type="radio"/>
24	<input type="radio"/>	<input type="radio"/>	<input type="radio"/>	<input type="radio"/>
25	<input type="radio"/>	<input type="radio"/>	<input type="radio"/>	<input type="radio"/>
26	<input type="radio"/>	<input type="radio"/>	<input type="radio"/>	<input type="radio"/>
27	<input type="radio"/>	<input type="radio"/>	<input type="radio"/>	<input type="radio"/>
28	<input type="radio"/>	<input type="radio"/>	<input type="radio"/>	<input type="radio"/>
29	<input type="radio"/>	<input type="radio"/>	<input type="radio"/>	<input type="radio"/>
30	<input type="radio"/>	<input type="radio"/>	<input type="radio"/>	<input type="radio"/>
31	<input type="radio"/>	<input type="radio"/>	<input type="radio"/>	<input type="radio"/>
32	<input type="radio"/>	<input type="radio"/>	<input type="radio"/>	<input type="radio"/>
33	<input type="radio"/>	<input type="radio"/>	<input type="radio"/>	<input type="radio"/>
34	<input type="radio"/>	<input type="radio"/>	<input type="radio"/>	<input type="radio"/>
35	<input type="radio"/>	<input type="radio"/>	<input type="radio"/>	<input type="radio"/>
36	<input type="radio"/>	<input type="radio"/>	<input type="radio"/>	<input type="radio"/>
37	<input type="radio"/>	<input type="radio"/>	<input type="radio"/>	<input type="radio"/>
38	<input type="radio"/>	<input type="radio"/>	<input type="radio"/>	<input type="radio"/>
39	<input type="radio"/>	<input type="radio"/>	<input type="radio"/>	<input type="radio"/>
40	<input type="radio"/>	<input type="radio"/>	<input type="radio"/>	<input type="radio"/>
41	<input type="radio"/>	<input type="radio"/>	<input type="radio"/>	<input type="radio"/>
42	<input type="radio"/>	<input type="radio"/>	<input type="radio"/>	<input type="radio"/>
43	<input type="radio"/>	<input type="radio"/>	<input type="radio"/>	<input type="radio"/>
44	<input type="radio"/>	<input type="radio"/>	<input type="radio"/>	<input type="radio"/>
45	<input type="radio"/>	<input type="radio"/>	<input type="radio"/>	<input type="radio"/>
46	<input type="radio"/>	<input type="radio"/>	<input type="radio"/>	<input type="radio"/>
47	<input type="radio"/>	<input type="radio"/>	<input type="radio"/>	<input type="radio"/>
48	<input type="radio"/>	<input type="radio"/>	<input type="radio"/>	<input type="radio"/>
49	<input type="radio"/>	<input type="radio"/>	<input type="radio"/>	<input type="radio"/>
50	<input type="radio"/>	<input type="radio"/>	<input type="radio"/>	<input type="radio"/>
51	<input type="radio"/>	<input type="radio"/>	<input type="radio"/>	<input type="radio"/>
52	<input type="radio"/>	<input type="radio"/>	<input type="radio"/>	<input type="radio"/>
53	<input type="radio"/>	<input type="radio"/>	<input type="radio"/>	<input type="radio"/>
54	<input type="radio"/>	<input type="radio"/>	<input type="radio"/>	<input type="radio"/>
55	<input type="radio"/>	<input type="radio"/>	<input type="radio"/>	<input type="radio"/>
56	<input type="radio"/>	<input type="radio"/>	<input type="radio"/>	<input type="radio"/>
57	<input type="radio"/>	<input type="radio"/>	<input type="radio"/>	<input type="radio"/>
58	<input type="radio"/>	<input type="radio"/>	<input type="radio"/>	<input type="radio"/>
59	<input type="radio"/>	<input type="radio"/>	<input type="radio"/>	<input type="radio"/>
60	<input type="radio"/>	<input type="radio"/>	<input type="radio"/>	<input type="radio"/>
61	<input type="radio"/>	<input type="radio"/>	<input type="radio"/>	<input type="radio"/>
62	<input type="radio"/>	<input type="radio"/>	<input type="radio"/>	<input type="radio"/>
63	<input type="radio"/>	<input type="radio"/>	<input type="radio"/>	<input type="radio"/>
64	<input type="radio"/>	<input type="radio"/>	<input type="radio"/>	<input type="radio"/>
65	<input type="radio"/>	<input type="radio"/>	<input type="radio"/>	<input type="radio"/>
66	<input type="radio"/>	<input type="radio"/>	<input type="radio"/>	<input type="radio"/>
67	<input type="radio"/>	<input type="radio"/>	<input type="radio"/>	<input type="radio"/>
68	<input type="radio"/>	<input type="radio"/>	<input type="radio"/>	<input type="radio"/>
69	<input type="radio"/>	<input type="radio"/>	<input type="radio"/>	<input type="radio"/>
70	<input type="radio"/>	<input type="radio"/>	<input type="radio"/>	<input type="radio"/>
71	<input type="radio"/>	<input type="radio"/>	<input type="radio"/>	<input type="radio"/>
72	<input type="radio"/>	<input type="radio"/>	<input type="radio"/>	<input type="radio"/>
73	<input type="radio"/>	<input type="radio"/>	<input type="radio"/>	<input type="radio"/>
74	<input type="radio"/>	<input type="radio"/>	<input type="radio"/>	<input type="radio"/>
75	<input type="radio"/>	<input type="radio"/>	<input type="radio"/>	<input type="radio"/>
76	<input type="radio"/>	<input type="radio"/>	<input type="radio"/>	<input type="radio"/>
77	<input type="radio"/>	<input type="radio"/>	<input type="radio"/>	<input type="radio"/>
78	<input type="radio"/>	<input type="radio"/>	<input type="radio"/>	<input type="radio"/>
79	<input type="radio"/>	<input type="radio"/>	<input type="radio"/>	<input type="radio"/>
80	<input type="radio"/>	<input type="radio"/>	<input type="radio"/>	<input type="radio"/>

R

R1	<input type="radio"/>	<input type="radio"/>	<input type="radio"/>	<input type="radio"/>
R2	<input type="radio"/>	<input type="radio"/>	<input type="radio"/>	<input type="radio"/>
1	<input type="radio"/>	<input type="radio"/>	<input type="radio"/>	<input type="radio"/>
2	<input type="radio"/>	<input type="radio"/>	<input type="radio"/>	<input type="radio"/>
3	<input type="radio"/>	<input type="radio"/>	<input type="radio"/>	<input type="radio"/>
4	<input type="radio"/>	<input type="radio"/>	<input type="radio"/>	<input type="radio"/>
5	<input type="radio"/>	<input type="radio"/>	<input type="radio"/>	<input type="radio"/>
6	<input type="radio"/>	<input type="radio"/>	<input type="radio"/>	<input type="radio"/>
7	<input type="radio"/>	<input type="radio"/>	<input type="radio"/>	<input type="radio"/>
8	<input type="radio"/>	<input type="radio"/>	<input type="radio"/>	<input type="radio"/>
9	<input type="radio"/>	<input type="radio"/>	<input type="radio"/>	<input type="radio"/>
10	<input type="radio"/>	<input type="radio"/>	<input type="radio"/>	<input type="radio"/>
11	<input type="radio"/>	<input type="radio"/>	<input type="radio"/>	<input type="radio"/>
12	<input type="radio"/>	<input type="radio"/>	<input type="radio"/>	<input type="radio"/>
13	<input type="radio"/>	<input type="radio"/>	<input type="radio"/>	<input type="radio"/>
14	<input type="radio"/>	<input type="radio"/>	<input type="radio"/>	<input type="radio"/>
15	<input type="radio"/>	<input type="radio"/>	<input type="radio"/>	<input type="radio"/>
16	<input type="radio"/>	<input type="radio"/>	<input type="radio"/>	<input type="radio"/>
17	<input type="radio"/>	<input type="radio"/>	<input type="radio"/>	<input type="radio"/>
18	<input type="radio"/>	<input type="radio"/>	<input type="radio"/>	<input type="radio"/>
19	<input type="radio"/>	<input type="radio"/>	<input type="radio"/>	<input type="radio"/>
20	<input type="radio"/>	<input type="radio"/>	<input type="radio"/>	<input type="radio"/>
21	<input type="radio"/>	<input type="radio"/>	<input type="radio"/>	<input type="radio"/>
22	<input type="radio"/>	<input type="radio"/>	<input type="radio"/>	<input type="radio"/>
23	<input type="radio"/>	<input type="radio"/>	<input type="radio"/>	<input type="radio"/>
24	<input type="radio"/>	<input type="radio"/>	<input type="radio"/>	<input type="radio"/>
25	<input type="radio"/>	<input type="radio"/>	<input type="radio"/>	<input type="radio"/>
26	<input type="radio"/>	<input type="radio"/>	<input type="radio"/>	<input type="radio"/>
27	<input type="radio"/>	<input type="radio"/>	<input type="radio"/>	<input type="radio"/>
28	<input type="radio"/>	<input type="radio"/>	<input type="radio"/>	<input type="radio"/>
29	<input type="radio"/>	<input type="radio"/>	<input type="radio"/>	<input type="radio"/>
30	<input type="radio"/>	<input type="radio"/>	<input type="radio"/>	<input type="radio"/>
31	<input type="radio"/>	<input type="radio"/>	<input type="radio"/>	<input type="radio"/>
32	<input type="radio"/>	<input type="radio"/>	<input type="radio"/>	<input type="radio"/>

N

N1	<input type="radio"/>	<input type="radio"/>	<input type="radio"/>	<input type="radio"/>
N2	<input type="radio"/>	<input type="radio"/>	<input type="radio"/>	<input type="radio"/>
N3	<input type="radio"/>	<input type="radio"/>	<input type="radio"/>	<input type="radio"/>
1	<input type="radio"/>	<input type="radio"/>	<input type="radio"/>	<input type="radio"/>
2	<input type="radio"/>	<input type="radio"/>	<input type="radio"/>	<input type="radio"/>
3	<input type="radio"/>	<input type="radio"/>	<input type="radio"/>	<input type="radio"/>
4	<input type="radio"/>	<input type="radio"/>	<input type="radio"/>	<input type="radio"/>
5	<input type="radio"/>	<input type="radio"/>	<input type="radio"/>	<input type="radio"/>
6	<input type="radio"/>	<input type="radio"/>	<input type="radio"/>	<input type="radio"/>
7	<input type="radio"/>	<input type="radio"/>	<input type="radio"/>	<input type="radio"/>
8	<input type="radio"/>	<input type="radio"/>	<input type="radio"/>	<input type="radio"/>
9	<input type="radio"/>	<input type="radio"/>	<input type="radio"/>	<input type="radio"/>
10	<input type="radio"/>	<input type="radio"/>	<input type="radio"/>	<input type="radio"/>
11	<input type="radio"/>	<input type="radio"/>	<input type="radio"/>	<input type="radio"/>
12	<input type="radio"/>	<input type="radio"/>	<input type="radio"/>	<input type="radio"/>
13	<input type="radio"/>	<input type="radio"/>	<input type="radio"/>	<input type="radio"/>
14	<input type="radio"/>	<input type="radio"/>	<input type="radio"/>	<input type="radio"/>
15	<input type="radio"/>	<input type="radio"/>	<input type="radio"/>	<input type="radio"/>
16	<input type="radio"/>	<input type="radio"/>	<input type="radio"/>	<input type="radio"/>
17	<input type="radio"/>	<input type="radio"/>	<input type="radio"/>	<input type="radio"/>
18	<input type="radio"/>	<input type="radio"/>	<input type="radio"/>	<input type="radio"/>
19	<input type="radio"/>	<input type="radio"/>	<input type="radio"/>	<input type="radio"/>
20	<input type="radio"/>	<input type="radio"/>	<input type="radio"/>	<input type="radio"/>
21	<input type="radio"/>	<input type="radio"/>	<input type="radio"/>	<input type="radio"/>
22	<input type="radio"/>	<input type="radio"/>	<input type="radio"/>	<input type="radio"/>
23	<input type="radio"/>	<input type="radio"/>	<input type="radio"/>	<input type="radio"/>
24	<input type="radio"/>	<input type="radio"/>	<input type="radio"/>	<input type="radio"/>
25	<input type="radio"/>	<input type="radio"/>	<input type="radio"/>	<input type="radio"/>
26	<input type="radio"/>	<input type="radio"/>	<input type="radio"/>	<input type="radio"/>
27	<input type="radio"/>	<input type="radio"/>	<input type="radio"/>	<input type="radio"/>
28	<input type="radio"/>	<input type="radio"/>	<input type="radio"/>	<input type="radio"/>
29	<input type="radio"/>	<input type="radio"/>	<input type="radio"/>	<input type="radio"/>
30	<input type="radio"/>	<input type="radio"/>	<input type="radio"/>	<input type="radio"/>
31	<input type="radio"/>	<input type="radio"/>	<input type="radio"/>	<input type="radio"/>
32	<input type="radio"/>	<input type="radio"/>	<input type="radio"/>	<input type="radio"/>

M

M1	<input type="radio"/>	<input type="radio"/>	<input type="radio"/>	<input type="radio"/>
M2	<input type="radio"/>	<input type="radio"/>	<input type="radio"/>	<input type="radio"/>
1	<input type="radio"/>	<input type="radio"/>	<input type="radio"/>	<input type="radio"/>
2	<input type="radio"/>	<input type="radio"/>	<input type="radio"/>	<input type="radio"/>
3	<input type="radio"/>	<input type="radio"/>	<input type="radio"/>	<input type="radio"/>
4	<input type="radio"/>	<input type="radio"/>	<input type="radio"/>	<input type="radio"/>
5	<input type="radio"/>	<input type="radio"/>	<input type="radio"/>	<input type="radio"/>
6	<input type="radio"/>	<input type="radio"/>	<input type="radio"/>	<input type="radio"/>
7	<input type="radio"/>	<input type="radio"/>	<input type="radio"/>	<input type="radio"/>
8	<input type="radio"/>	<input type="radio"/>	<input type="radio"/>	<input type="radio"/>
9	<input type="radio"/>	<input type="radio"/>	<input type="radio"/>	<input type="radio"/>
10	<input type="radio"/>	<input type="radio"/>	<input type="radio"/>	<input type="radio"/>
11	<input type="radio"/>	<input type="radio"/>	<input type="radio"/>	<input type="radio"/>
12	<input type="radio"/>	<input type="radio"/>	<input type="radio"/>	<input type="radio"/>
13	<input type="radio"/>	<input type="radio"/>	<input type="radio"/>	<input type="radio"/>
14	<input type="radio"/>	<input type="radio"/>	<input type="radio"/>	<input type="radio"/>
15	<input type="radio"/>	<input type="radio"/>	<input type="radio"/>	<input type="radio"/>
16	<input type="radio"/>	<input type="radio"/>	<input type="radio"/>	<input type="radio"/>
17	<input type="radio"/>	<input type="radio"/>	<input type="radio"/>	<input type="radio"/>
18	<input type="radio"/>	<input type="radio"/>	<input type="radio"/>	<input type="radio"/>
19	<input type="radio"/>	<input type="radio"/>	<input type="radio"/>	<input type="radio"/>
20	<input type="radio"/>	<input type="radio"/>	<input type="radio"/>	<input type="radio"/>
21	<input type="radio"/>	<input type="radio"/>	<input type="radio"/>	<input type="radio"/>
22	<input type="radio"/>	<input type="radio"/>	<input type="radio"/>	<input type="radio"/>
23	<input type="radio"/>	<input type="radio"/>	<input type="radio"/>	<input type="radio"/>
24	<input type="radio"/>	<input type="radio"/>	<input type="radio"/>	<input type="radio"/>
25	<input type="radio"/>	<input type="radio"/>	<input type="radio"/>	<input type="radio"/>
26	<input type="radio"/>	<input type="radio"/>	<input type="radio"/>	<input type="radio"/>
27	<input type="radio"/>	<input type="radio"/>	<input type="radio"/>	<input type="radio"/>
28	<input type="radio"/>	<input type="radio"/>	<input type="radio"/>	<input type="radio"/>

O

O1	<input type="radio"/>	<input type="radio"/>	<input type="radio"/>	<input type="radio"/>
O2	<input type="radio"/>	<input type="radio"/>	<input type="radio"/>	<input type="radio"/>
1	<input type="radio"/>	<input type="radio"/>	<input type="radio"/>	<input type="radio"/>
2	<input type="radio"/>	<input type="radio"/>	<input type="radio"/>	<input type="radio"/>
3	<input type="radio"/>	<input type="radio"/>	<input type="radio"/>	<input type="radio"/>
4	<input type="radio"/>	<input type="radio"/>	<input type="radio"/>	<input type="radio"/>
5	<input type="radio"/>	<input type="radio"/>	<input type="radio"/>	<input type="radio"/>
6	<input type="radio"/>	<input type="radio"/>	<input type="radio"/>	<input type="radio"/>
7	<input type="radio"/>	<input type="radio"/>	<input type="radio"/>	<input type="radio"/>
8	<input type="radio"/>	<input type="radio"/>	<input type="radio"/>	<input type="radio"/>
9	<input type="radio"/>	<input type="radio"/>	<input type="radio"/>	<input type="radio"/>
10	<input type="radio"/>	<input type="radio"/>	<input type="radio"/>	<input type="radio"/>
11	<input type="radio"/>	<input type="radio"/>	<input type="radio"/>	<input type="radio"/>
12	<input type="radio"/>	<input type="radio"/>	<input type="radio"/>	<input type="radio"/>
13	<input type="radio"/>	<input type="radio"/>	<input type="radio"/>	<input type="radio"/>
14	<input type="radio"/>	<input type="radio"/>	<input type="radio"/>	<input type="radio"/>
15	<input type="radio"/>	<input type="radio"/>	<input type="radio"/>	<input type="radio"/>
16	<input type="radio"/>	<input type="radio"/>	<input type="radio"/>	<input type="radio"/>
17	<input type="radio"/>	<input type="radio"/>	<input type="radio"/>	<input type="radio"/>
18	<input type="radio"/>	<input type="radio"/>	<input type="radio"/>	<input type="radio"/>
19	<input type="radio"/>	<input type="radio"/>	<input type="radio"/>	<input type="radio"/>
20	<input type="radio"/>	<input type="radio"/>	<input type="radio"/>	<input type="radio"/>
21	<input type="radio"/>	<input type="radio"/>	<input type="radio"/>	<input type="radio"/>
22	<input type="radio"/>	<input type="radio"/>	<input type="radio"/>	<input type="radio"/>
23	<input type="radio"/>	<input type="radio"/>	<input type="radio"/>	<input type="radio"/>
24	<input type="radio"/>	<input type="radio"/>	<input type="radio"/>	<input type="radio"/>
25	<input type="radio"/>	<input type="radio"/>	<input type="radio"/>	<input type="radio"/>
26	<input type="radio"/>	<input type="radio"/>	<input type="radio"/>	<input type="radio"/>
27	<input type="radio"/>	<input type="radio"/>	<input type="radio"/>	<input type="radio"/>
28	<input type="radio"/>	<input type="radio"/>	<input type="radio"/>	<input type="radio"/>
29	<input type="radio"/>	<input type="radio"/>	<input type="radio"/>	<input type="radio"/>
30	<input type="radio"/>	<input type="radio"/>	<input type="radio"/>	<input type="radio"/>
31	<input type="radio"/>	<input type="radio"/>	<input type="radio"/>	<input type="radio"/>
32	<input type="radio"/>	<input type="radio"/>	<input type="radio"/>	<input type="radio"/>